

اگرچه نیت خوبی است زیستن ...
اما خوشا که دست به تصمیم بهتری بزنیم!

 www.konkursara.com

 ۰۲۱۵۵۷۵۶۵۰۰

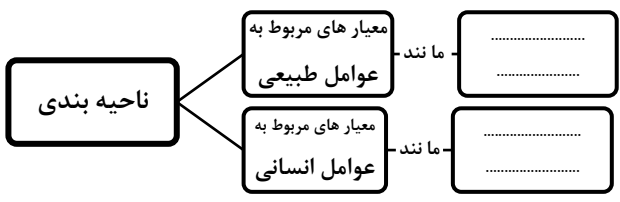


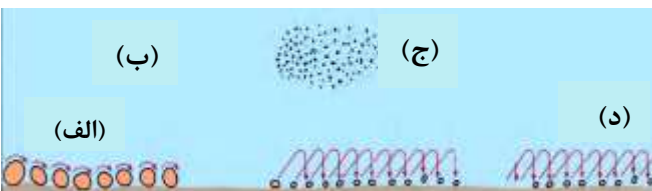
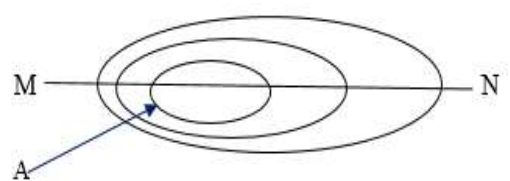
دانلود بهترین جزوات در

کنکورسرا

کنکورسرا

مرجع تخصصی قبولی آزمون فرهنگیان و آزمون استخدامی آموزش و پرورش

| | | | | | |
|--|--|---|--|--|------|
| نمره تجدید نظر به عدد:..... نمره تجدید نظر به حروف:..... نام و نام خانوادگی دبیر و امضاء:..... | | بسمه تعالی اداره کل آموزش و پرورش استان قم اداره آموزش و پرورش ناحیه دو قم دبیرستان شهدای نیروگاه | | نمره به عدد:..... نمره به حروف:..... نام و نام خانوادگی دبیر و امضاء:..... | |
| تاریخ امتحان : ۹۸ / ۱۰ / ۲۳ مدت امتحان: ۶۰ دقیقه | | سال تحصیلی: ۹۹-۹۸ نام دبیر: آقای مرادی | | پایه: یازدهم نوبت: اول شماره کلاس: | |
| بارم | این امتحان با ۱۹ سؤال و در سه صفحه طراحی شده است و نیاز به پاسخ نامه ندارد. طراح احمد مرادی | | | | ردیف |
| ۱ | صحیح یا غلط بودن عبارات زیر را مشخص کنید: (ص) یا (غ) الف) تعیین مرز نواحی انسانی، آسان تر از نواحی طبیعی است. () ب) جبهه قطبی در تغییرات آب و هوایی کشور ما نقش مهمی دارد. () ج) انبوه ترین و متراکم ترین پوشش گیاهی در زیست بوم توندرا وجود دارد. () د) در بین زبان های خانواده آفروآسیایی، معروف ترین و مهم ترین آنها زبان عربی است. () | | | | ۱ |
| ۱/۵ | گزینه های مناسب را مشخص کنید: ۱) انتخاب معیارها و ملاک ها برای تعیین حدود یک ناحیه، به کدام عامل بستگی دارد؟ الف) محیط جغرافیایی (ب) طرز تفکر (ج) شیوه کار (د) هدف مطالعه و تحقیق ۲) نواحی انسانی در چه بستری شکل می گیرد؟ الف) طبیعی (ب) سیاسی (ج) اجتماعی (د) تجاری ۳) کدام مورد از کاربری های جزیره های مصنوعی خلیج فارس نیست؟ الف) ارتباطی (ب) مسکونی (ج) تفریحی (د) تجاری ۴) کدام ناحیه طبیعی در مرز سه استان خراسان جنوبی، سیستان و بلوچستان و کرمان قرار دارد؟ الف) کوه های سیستان (ب) بیابان لوت (ج) دشت کویر (د) کوه های تفتان ۵) کدام بیابان ها بر اثر دوری از دریاها ایجاد شده اند؟ الف) گبی، تکله ماکان (ب) آتاکاما، گبی (ج) ترکستان، نامیب (د) لوت، استرالیا ۶) در رسوبات نرم به جا مانده از دریاچه های قدیم، پدید می آید. الف) یاردانگ (ب) گرز دیو (ج) برخان (د) رگ | | | | ۲ |
| ۱ | هر یک از جملات زیر را با کلمات مناسب کامل نمایید: ۱) ناحیه بندی کاری صرفاً است. ۲) بیش ترین تغییرات آب و هوایی در لایه به وجود می آید. ۳) دامنه های کوه های دارای بیش ترین تراکم جمعیت در نواحی کوهستانی جهان است. ۴) بزرگ ترین و گسترده ترین، خانواده زبانی دنیا خانواده زبانی است. | | | | ۳ |
| ۱/۵ | به سوالات زیر پاسخ کوتاه بدهید: الف) هدف از ناحیه بندی توسط جغرافی دان ها را بنویسید؟ ب) علل ایجاد بیابان ها را بنویسید؟ (دو مورد) ج) دو عامل اصلی وایتکر در طبقه بندی بوم سازگان کدامند؟ | | | | ۴ |

| | | |
|-----|--|----|
| ۱ | <p>شکل را با نوشتن کلمات مناسب کامل کنید:</p>  | ۵ |
| ۱ | <p>شکل روبرو را تفسیر نمایید:</p>  | ۶ |
| ۱ | <p>تفاوت «هواشناسی» و «آب و هوا شناسی» را با ذکر مثال توضیح دهید؟</p> | ۷ |
| ۱ | <p>نحوه ایجاد باران در عامل همرفتی را با توجه به شکل توضیح دهید؟</p>  | ۸ |
| /۷۵ | <p>معیار های طبقه بندی آب و هوایی کوپن کدامند؟ (۳ مورد)</p> | ۹ |
| ۱ | <p>فلات و کوه را باهم مقایسه کنید؟</p> | ۱۰ |
| ۱ | <p>از اشکال زیر کدام مورد فرسایش کاوشی و کدام فرسایش تراکمی در سواحل است؟ (الف) جزایر مرجانی (ب) غارها (ج) باتلاق ها (د) ستون های سنگی</p> | ۱۱ |
| ۱ | <p>اشکال مختلف حمل مواد توسط آب را در شکل زیر مشخص کنید:</p>  <p>..... (الف) (ب) (ج) (د)</p> | ۱۲ |
| /۷۵ | <p>شکل زیر نقشه توپوگرافی جزیره ای در آب های آزاد است (فاصله منحنی های میزان ۵۰ متر است). الف) نیمرخ منحنی ها را در راستای M N رسم کنید. ب) ارتفاع نقطه A چند متر است؟</p>  | ۱۳ |

| | |
|--|--|
| سال تحصیلی ۹۸-۹۹ حیدرسلطانی - قم | |
| جواب (۱) الف) غ ب) ص ج) غ د) ص | |
| جواب (۲) د. ۱ الف. ۲ الف. ۳ ب. ۴ الف. ۵ الف. ۶ | |
| جواب (۳) ۱. جغرافیایی ۲. وردسپهر ۳. آلپ ۴. هندواروپایی | |
| جواب (۴) الف) شناخت بهتر و آسان تر کردن مکانها - علمی کردن مطالعات - برنامه ریزی صحیح ب) استقرار مراکز پر فشار - نبود رطوبت ج) دما - بارش | |
| جواب (۵) ناحیه بندی به معیار تقسیم میشود: ۱- عوامل طبیعی (مانند: ناهمواری ها، آب و هوا). ۲- عوامل انسانی (مانند: دین، جمعیت، اقوام). | |
| ۶. کانون ناحیه است هر چه از کانون صنعتی به طرف مرزها برویم تعداد کارخانه کم می شود | |
| ۷. هوا و وضعیت گذر او موقت در یک محل دارد در یک مدت زمان کوتاه و آب و هوا شرایط و موقعیت هوادر یک ناحیه است در یک دوره نسبتاً طولانی می باشد. | |
| ۸. توده هوا از هوای مجاور خود گرم ترمی شود؛ با بالا رفتن هوا، دمای آن کاهش می یابد و بارندگی صورت می گیرد، بارش های بهاری بیشتر از این نوع هستند. | |
| ۹. بارش - رطوبت - پوشش گیاهی | |
| ۱۰. فلات و کوه هر دو مرتفع اند. کوه، قله دارد هر چه به سمت قله برویم باریک تر میشود. فلات، مرتفع و مسطح است. | |
| ۱۱. الف) تراکمی. ب) کاوشی. ج) تراکمی. د) کاوشی. | |
| ۱۲. الف) غلتان. ب) محلول. ج) مخلوط معلق. د) جهشی. | |
| ۱۳. الف) یک خط عمودی رسم کنید و آنرا از (۰ تا ۱۰۰) شماره گذاری کنید و خط MN را نقطه گذاری کنید و اعداد را بر نقطه خود قرار دهید و آنها را به هم وصل کنید. ب) ۱۰۰ متر است. | |
| ۱۴. عوامل آب و هوا و خاک - نوع ناهمواری ها و ارتفاعات. | |

۱۵. معادن - گردشگری - انرژی - مناسب برای تحقیقات نجومی و صنایع هوافضا.

۱۶. کشت گیاهان بر روی دامنه ها برای جلوگیری از فرسایش خاک - سیل بند - پاک سازی کوهستان ها از آلودگی ها - گردشگری

۱۷. الف) بخشی از سطح زمین است که فرهنگ ویژه ای دارد و از سایر نواحی متمایز میکند.
ب) خانواده ای است که یک ریشه اصلی زبان است.

۱۸. در قرن ۱۵ و ۱۶ عصر اکتشافات جغرافیایی اتفاق افتاد. پس از بدست آوردن فنون دریانوردی به دست اروپاییان زبان کشورهای آمریکای شمالی، نیوزیلند و استرالیا زبان انگلیسی شد.

۱۹. چین: جمعیت زیاد - انگلیسی: استعمارگری

| | | |
|-----|--|----|
| ۱ | چهارعامل موثر در پراکندگی پوشش گیاهی و زندگی جانوری نواحی کدامند؟ | ۱۴ |
| ۱ | قابلیت های نواحی بیابانی را بنویسید؟(۴مورد) | ۱۵ |
| ۱ | راهکارهای حفاظت از محیط های کوهستانی را بنویسید؟(۴ مورد) | ۱۶ |
| ۲ | اصطلاحات زیر را تعریف نمایید: الف) ناحیه فرهنگی:..... ب) خانواده زبانی:..... | ۱۷ |
| ۱ | نقش «عصراکتشافات جغرافیایی» در تغییر تاریخی الگوهای زبانی جهان را توضیح دهید؟ | ۱۸ |
| ۱/۵ | چرا زبان های انگلیسی و چینی، از پرمتکلم ترین زبان های جهان محسوب می شوند؟ | ۱۹ |