

اگرچه نیت خوبی است زیستن ...
اما خوشا که دست به تصمیم بهتری بزنیم!

 www.konkursara.com

 ۰۲۱۵۵۷۵۶۵۰۰

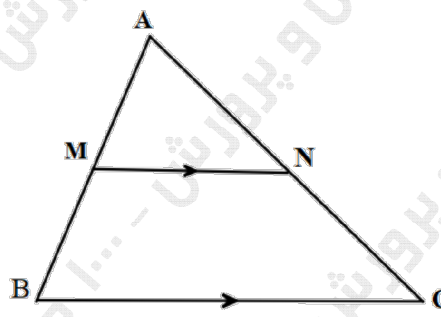
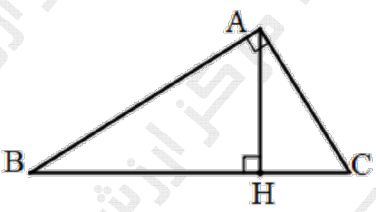
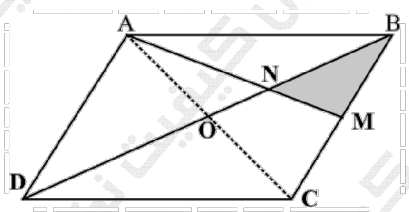
دانلود بهترین جزوات در

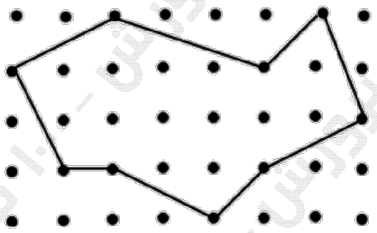
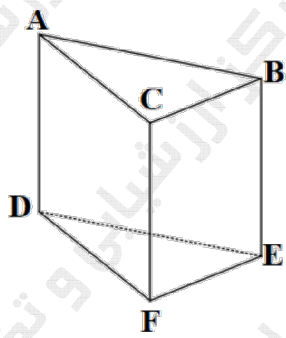
کنکورسرا

کنکورسرا

مرجع تخصصی قبولی آزمون فرهنگیان و آزمون استخدامی آموزش و پرورش

سؤالات آزمون نهایی درس: هندسه ۱		تعداد صفحه: ۳	رشته: ریاضی و فیزیک	ساعت شروع: ۱۰:۳۰ صبح
پایه دهم دوره دوم متوسطه		تاریخ آزمون: ۱۴۰۳/۰۳/۱۶	نام و نام خانوادگی:	مدت آزمون: ۱۲۰ دقیقه
دانش آموزان روزانه، بزرگسال، داوطلب آزاد، آموزش از راه دور و ایشارگر داخل و خارج کشور خرداد ۱۴۰۳		مرکز ارزشیابی و تضمین کیفیت نظام آموزش و پرورش azmoon.medu.ir		
ردیف	سؤالات (پاسخ نامه دارد) - استفاده از ماشین حساب ساده مجاز است.			
۱	<p>درستی یا نادرستی هر یک از عبارات زیر را مشخص کنید.</p> <p>الف) مجموع زاویه‌های داخلی هر چهارضلعی محدب، 360° درجه است.</p> <p>ب) در هر مثلث، نسبت اندازه‌های هر دو ضلع، با نسبت ارتفاع وارد بر آنها برابر است.</p> <p>پ) اگر دو قطر یک چهارضلعی هم اندازه باشند، آن چهارضلعی مستطیل است.</p> <p>ت) در فضا دو خط عمود بر یک خط، با هم موازی‌اند.</p>			
۱۰۲۵	<p>جاهای خالی را با عبارات (کلمات) مناسب کامل کنید.</p> <p>الف) عمودمنصف وتر یک دایره از دایره می‌گذرد.</p> <p>ب) اگر نسبت مساحت‌های دو شکل متشابه $\frac{9}{25}$ باشد، در این صورت نسبت تشابه برابر با است.</p> <p>پ) واسطه هندسی مثبت بین دو عدد ۳ و ۱۲ برابر با است.</p> <p>ت) شکل حاصل از تقاطع نیمسازهای داخلی یک متوازی‌الاضلاع می‌باشد.</p> <p>ث) خط راستی که اشتراک دو صفحه متقاطع است، آن دو صفحه نامیده می‌شود.</p>			
۱	<p>با استفاده از برهان خلف، ثابت کنید اگر در مثلثی دو زاویه نابرابر باشند، ضلع روبه‌رو به زاویه بزرگ‌تر، بزرگ‌تر است از ضلع روبه‌رو به زاویه کوچک‌تر.</p>			
۱	<p>روش رسم خط عمود بر یک خط از نقطه‌ای غیرواقع بر آن را توضیح دهید. (با رسم شکل)</p>			
۰.۵	<p>آیا گزاره " هر دو مثلث که مساحت‌های برابر داشته باشند، هم‌نهشت‌اند." درست است؟ چرا؟</p>			
۱۰۲۵	<p>در شکل مقابل مقادیر x و y را بیابید.</p> 			
۰.۷۵	<p>در ذوزنقه زیر MN با قائده‌ها موازی است. با رسم قطر AC، تناسب داده شده را ثابت کنید:</p> $\frac{AM}{MD} = \frac{BN}{NC}$ 			

سؤالات آزمون نهایی درس: هندسه ۱		تعداد صفحه: ۳		رشته: ریاضی و فیزیک		ساعت شروع: ۱۰:۳۰ صبح	
پایه دهم دوره دوم متوسطه		تاریخ آزمون: ۱۴۰۳/۰۳/۱۶		نام و نام خانوادگی:		مدت آزمون: ۱۲۰ دقیقه	
دانش آموزان روزانه، بزرگسال، داوطلب آزاد، آموزش از راه دور و ایشارگر داخل و خارج کشور خرداد ۱۴۰۳		مرکز ارزشیابی و تضمین کیفیت نظام آموزش و پرورش azmoon.medu.ir					
ردیف	سؤالات (پاسخ نامه دارد) - استفاده از ماشین حساب ساده مجاز است.						
۸	۱.۵	<p>قضیه اساسی تشابه: در شکل زیر MN موازی BC است. ثابت کنید مثلث AMN با مثلث ABC متشابه است.</p> 					
۹	۱.۲۵	<p>در مثلث قائم الزاویه‌ی زیر ثابت کنید دو مثلث ABH و ACH متشابه‌اند و به کمک آن نشان دهید AH واسطه هندسی بین BH و HC است.</p> 					
۱۰	۱	<p>طول اضلاع یک مثلث ۷، ۸ و ۱۲ سانتی‌متر بوده و طول بزرگ‌ترین ضلع مثلثی متشابه با آن ۱۶ سانتی‌متر است. محیط مثلث دوم را به دست آورید.</p>					
۱۱	۰.۷۵	<p>ثابت کنید در متوازی‌الاضلاع، هر دو زاویه مجاور مکمل‌اند.</p>					
۱۲	۱.۲۵	<p>ثابت کنید در هر مثلث قائم‌الزاویه، اندازهٔ میانه وارد بر وتر، نصف اندازهٔ وتر است.</p>					
۱۳	۱.۲۵	<p>در یک لوزی، اندازهٔ هر ضلع $2\sqrt{10}$ و نسبت اندازه‌های دو قطر $\frac{1}{3}$ است. مساحت لوزی را پیدا کنید.</p>					
۱۴	۱.۲۵	<p>در متوازی‌الاضلاع $ABCD$، M وسط ضلع BC بوده و پاره‌خط AM قطر BD را در نقطهٔ N قطع کرده است. نشان دهید:</p> $S_{BNM} = \frac{1}{12} S_{ABCD}$ 					

ساعات شروع: ۱۰:۳۰ صبح		ریاضی و فیزیک		رشته: ۳		تعداد صفحه: ۳		سؤالات آزمون نهایی درس: هندسه ۱	
مدت آزمون: ۱۲۰ دقیقه		نام و نام خانوادگی:		۱۴۰۳/۰۳/۱۶		تاریخ آزمون:		پایه دهم دوره دوم متوسطه	
مرکز ارزشیابی و تضمین کیفیت نظام آموزش و پرورش azmoon.medu.ir		دانش آموزان روزانه، بزرگسال، داوطلب آزاد، آموزش از راه دور و ایتارگر داخل و خارج کشور خرداد ۱۴۰۳							
ردیف		سؤالات (پاسخ نامه دارد) - استفاده از ماشین حساب ساده مجاز است.							
نمره									
۱		<p>با توجه به مساحت چندضلعی‌های شبکه‌ای، مساحت شکل زیر را محاسبه کنید.</p> 							
۱۶		<p>در هر مورد مشخص کنید شکل حاصل از دوران چه خواهد بود؟ تصویر مناسبی رسم کنید.</p> <p>الف) دوران یک مستطیل حول طول آن.</p> <p>ب) دوران یک مثلث قائم‌الزاویه حول یک ضلع زاویه قائمه.</p>							
۱۰۰.۷۵		<p>منشور سه پهلوی روبه‌رو را در نظر بگیرید و به سوالات زیر پاسخ دهید.</p> <p>الف) یک خط متنافر با CF نام ببرید.</p> <p>ب) یک خط موازی با CF نام ببرید.</p> <p>پ) دو صفحه موازی نام ببرید.</p> 							
۱۰۵		<p>الف) سطح مقطع استوانه با صفحه مایلی که با قاعده‌های استوانه متقاطع نباشد، به چه شکل است؟ تصویر مناسبی رسم کنید.</p> <p>ب) در شکل مقابل نمای بالا، روبه‌رو و سمت چپ را رسم کنید.</p> 